

# Andhra Pradesh State Council of Higher Education

## Notations :

- 1.Options shown in green color and with ✓ icon are correct.
- 2.Options shown in red color and with ✘ icon are incorrect.

<b>Question Paper Name :</b>	Humanities and Social Sciences 6th June 2023 Shift 3
<b>Duration :</b>	90
<b>Total Marks :</b>	100
<b>Display Marks:</b>	No
<b>Share Answer Key With Delivery Engine :</b>	Yes
<b>Calculator :</b>	None
<b>Magnifying Glass Required? :</b>	No
<b>Ruler Required? :</b>	No
<b>Eraser Required? :</b>	No
<b>Scratch Pad Required? :</b>	No
<b>Rough Sketch/Notepad Required? :</b>	No
<b>Protractor Required? :</b>	No
<b>Show Watermark on Console? :</b>	Yes
<b>Highlighter :</b>	No
<b>Auto Save on Console?</b>	Yes
<b>Change Font Color :</b>	No
<b>Change Background Color :</b>	No
<b>Change Theme :</b>	No
<b>Help Button :</b>	No
<b>Show Reports :</b>	No

Show Progress Bar :	No
Is this Group for Examiner? :	No
Examiner permission :	Cant View
Show Progress Bar? :	No

## Humanities and Social Sciences

Section Id :	54711431
Section Number :	1
Mandatory or Optional :	Mandatory
Number of Questions :	100
Section Marks :	100
Enable Mark as Answered Mark for Review and Clear Response :	Yes
Maximum Instruction Time :	0
Is Section Default? :	null

Question Number : 1 Question Id : 5471143001 Display Question Number : Yes Is Question Mandatory : No Calculator : None Response Time : N.A Think Time : N.A Minimum Instruction Time : 0

'Gabbilam' the literary work written by

గబ్బిలము అనే ఖండ కావ్యాన్ని రచించినది

Options :

Sri Sri

శ్రీశ్రీ

1. ✖

C. Narayana Reddy

2. ✘

సి. నారాయణ రెడ్డి

K. Chalam

3. ✘

కె. చలం

Gurram Jashuva

4. ✔

గుఱ్ఱం జాషువా

Question Number : 2 Question Id : 5471143002 Display Question Number : Yes Is Question Mandatory : No Calculator : None Response Time : N.A Think Time : N.A Minimum Instruction Time : 0

Smt. Draupadi Murmu served as governor to

శ్రీమతి ద్రౌపది ముర్ము గవర్నరుగా పనిచేసిన రాష్ట్రము

Options :

Odisha

1. ✘

ఒడిశా

Jharkhand

2. ✔

ఝార్ఖండ్

West Bengal

3. ✘

పశ్చిమ బెంగాల్

Madya Pradesh

మధ్యప్రదేశ్

4. ✘

Question Number : 3 Question Id : 5471143003 Display Question Number : Yes Is Question Mandatory : No Calculator : None Response Time : N.A Think Time : N.A Minimum Instruction Time : 0

Who is the 6<sup>th</sup> President of independent India

స్వాతంత్ర్య భారతావనికి 6వ రాష్ట్రపతి

Options :

V. V. Giri

వి.వి.గిరి

1. ✘

Neelam Sanjiva Reddy

నీలం సంజీవరెడ్డి

2. ✔

Sankar Dayal Sharma

శంకర్‌దయాల్ శర్మ

3. ✘

Radha Krishnan

రాధాకృష్ణన్

4. ✘

Question Number : 4 Question Id : 5471143004 Display Question Number : Yes Is Question

**Mandatory : No Calculator : None Response Time : N.A Think Time : N.A Minimum Instruction Time : 0**

Public grievance redressal platform for the citizens of AP is known as

ఆంధ్రప్రదేశ్ పౌరుల ప్రజాభిర్యదుల పరిష్కార వేదిక పేరు?

**Options :**

Praja Vani

1. ✘ ప్రజావాణి

Spandana

2. ✔ స్పందన

Janavani

3. ✘ జనవాణి

Praja spandana

4. ✘ ప్రజాస్పందన

**Question Number : 5 Question Id : 5471143005 Display Question Number : Yes Is Question Mandatory : No Calculator : None Response Time : N.A Think Time : N.A Minimum Instruction Time : 0**

National Botanical Research Institute is located at

జాతీయ వృక్ష శాస్త్ర పరిశోధన సంస్థ ప్రధాన కార్యాలయం

**Options :**

1. ✔

Lucknow

లక్నో

Simla

2. ✘

సిమ్లా

Mysore

3. ✘

మైసూర్

Nagpur

4. ✘

నాగపూర్

**Question Number : 6 Question Id : 5471143006 Display Question Number : Yes Is Question Mandatory : No Calculator : None Response Time : N.A Think Time : N.A Minimum Instruction Time : 0**

Minimata disease is caused due to the heavy metal

మినిమటా వ్యాధికి కారణమైన భారలోహం

**Options :**

Led

1. ✘

లెడ్

Mercury

2. ✔

మెర్కూరి

Cadmium

క్యాడ్మియము

3. ✖

Arsenic

ఆర్సెనిక్

4. ✖

Question Number : 7 Question Id : 5471143007 Display Question Number : Yes Is Question Mandatory : No Calculator : None Response Time : N.A Think Time : N.A Minimum Instruction Time : 0

The human factor which cause floods are

వరదలకు కారణమగు మానవ కారణాలు

Options :

Deforestation

అడవుల నిర్మూలన

1. ✔

Heavy rainfall

అధిక వర్షపాతం

2. ✖

Cloud Burst

మేఘాల విస్ఫోటనము

3. ✖

Large catchment area

పెద్ద పరీవాహక ప్రాంతము

4. ✘

Question Number : 8 Question Id : 5471143008 Display Question Number : Yes Is Question Mandatory : No Calculator : None Response Time : N.A Think Time : N.A Minimum Instruction Time : 0

The idea of Indian constituent assembly was put forward for the first time by

భారత రాజ్యాంగ సభ అనే ఆలోచనను మొదటిగా ముందుకు తెచ్చినది?

Options :

B. R. Ambedkar

డా॥ బి.ఆర్.అంబేద్కర్

1. ✘

C. R. Das

సి.ఆర్.దాస్

2. ✘

G. B. Panth

జి.బి.పంత్

3. ✘

M. N. Roy

యం.ఎన్.రాయ్

4. ✔

Question Number : 9 Question Id : 5471143009 Display Question Number : Yes Is Question Mandatory : No Calculator : None Response Time : N.A Think Time : N.A Minimum Instruction



Time : 0

The author of the book 'poverty and Un British Rule in India' was  
'పావర్టీ అండ్ అన్ బ్రిటీష్ రూల్ ఇన్ ఇండియా' అనే పుస్తకాన్ని రచించిన దెవరు?

Options :

Dadabai Naoroji

1. ✓ దాదాబాయ్ నారోజీ

R. C. Dutt

2. ✗ ఆర్.సి.దత్

V. K. R. V. Rao

3. ✗ వి.కె.ఆర్.వి.రావు

Dr. Bipin Chandra

4. ✗ డా॥ బిపిన్ చంద్ర

Question Number : 10 Question Id : 5471143010 Display Question Number : Yes Is Question  
Mandatory : No Calculator : None Response Time : N.A Think Time : N.A Minimum Instruction  
Time : 0

The prime Minister of England at the time of Queen Elizabeth II's death  
రెండవ క్వీన్ ఎలిజబెత్ మరణించే సమయానికి ఇంగ్లాండ్ ప్రధాన మంత్రి ఎవరు?

Options :

Boris Johnson

1. ✗ బోరిస్ జాన్సన్

Liz Truss

లిజ్‌ట్రస్

2. ✓

Theresa Mary

థెరిసా మేరి

3. ✘

David Cameron

డేవిడ్ కామరూన్

4. ✘

Question Number : 11 Question Id : 5471143011 Display Question Number : Yes Is Question Mandatory : No Calculator : None Response Time : N.A Think Time : N.A Minimum Instruction Time : 0

Who served as longest speaker of Lok Sabha?

లోక్ సభ స్పీకరుగా ఎక్కువ కాలము పని చేసినవారు?

Options :

G. V. Mavalankar

జి.వి.మౌలాంకర్

1. ✘

Balaram Jakhar

బలరామ్ జక్కర్

2. ✓

3. ✘

P.V. Sangma

పి.ఎ.సంగ్మా

Sivaraj Patil

శివరాజ్ పాటిల్

4. ✘

**Question Number : 12 Question Id : 5471143012 Display Question Number : Yes Is Question Mandatory : No Calculator : None Response Time : N.A Think Time : N.A Minimum Instruction Time : 0**

Which of the following schedule of Constitution incorporates the salary and allowances of Speaker and Deputy Speaker of Lok Sabha and Chairman and Deputy Chairman Rajya Sabha?

రాజ్యాంగములోని \_\_\_\_\_ షెడ్యూల్ లోక్ సభ సభాపతి. ఉప సభాపతి మరియు రాజ్య సభ అధ్యక్షుడు, ఉపాధ్యక్షుల జీత, భత్యాలను నమోదు చేస్తుంది

**Options :**

Fifth

1. ✘ ఐదవ

Second

2. ✔ రెండవ

Ninth

3. ✘ తొమ్మిదవ

Tenth

పదవ

4. ✘

Question Number : 13 Question Id : 5471143013 Display Question Number : Yes Is Question Mandatory : No Calculator : None Response Time : N.A Think Time : N.A Minimum Instruction Time : 0

The term 'economic justice' in the preamble of constitution is a resolution for \_\_\_\_

రాజ్యంగ ప్రవేశికలో ఆర్థిక న్యాయ పథము \_\_\_\_\_ పరిష్కారానికి

Options :

Equal distribution of wealth

సంపద సమ పంపిణీ

1. ✔

Economy in administering justice

న్యాయము అందించుటలో ఆర్థిక పరిగణ

2. ✘

Socio-economic revolution

ఆర్థిక, సాంఘిక విప్లవము

3. ✘

Cheap Justice to poor

పేదలకు న్యాయాన్ని చౌకగా అందించటం

4. ✘

Question Number : 14 Question Id : 5471143014 Display Question Number : Yes Is Question Mandatory : No Calculator : None Response Time : N.A Think Time : N.A Minimum Instruction Time : 0

The responsibility of preparing of electoral rolls rests with \_\_\_\_\_

ఓటర్ల జాబితా తయారు చేయు బాధ్యత \_\_\_\_\_ మీద ఉన్నది.

Options :

Parliament

పార్లమెంట్

1. ✘

Local administration

స్థానిక ప్రభుత్వము

2. ✘

Election commission

ఎన్నికల సంఘము

3. ✘

State Government

రాష్ట్ర ప్రభుత్వము

4. ✔

Question Number : 15 Question Id : 5471143015 Display Question Number : Yes Is Question Mandatory : No Calculator : None Response Time : N.A Think Time : N.A Minimum Instruction Time : 0

Which of the following are the determinants of voting behaviour?

- a) Political events preceding an election
- b) Performance of ruling party
- c) Ideology professed by a political party
- d) Economic conditions at the time of election
- e) Charismatic personality of the party leader

క్రింది వాటిలో ఓటింగ్ సరళిని ప్రభావితము చేయు అంశాలు ఏమి?

- a) ఎన్నికల ముందు రాజకీయ ఘటనలు
- b) అధికార పార్టీ పనితీరు
- c) రాజకీయ పార్టీ ఆలోచన
- d) ఎన్నికల సమయములో ఆర్థిక స్థితి గతులు
- e) పార్టీ నాయకుని ఆకర్షణ స్వభావము

Options :

b, c, e

1. ✘

a, b, c

2. ✘

a, c, d

3. ✘

a, b, c, d & e

4. ✔

**Mandatory : No Calculator : None Response Time : N.A Think Time : N.A Minimum Instruction Time : 0**

Who proposed the 'principle of market'

'మార్కెట్ సూత్రాన్ని' ప్రతిపాదించినది.

**Options :**

J. B. Say

1. ✓ జె.బి.సే

J.M. Keynes

2. ✗ జె.యమ్.కీన్స్

Karl Marx

3. ✗ కార్ల్ మార్క్స్

Fredman

4. ✗ ఫ్రెడ్మాన్

**Question Number : 17 Question Id : 5471143017 Display Question Number : Yes Is Question Mandatory : No Calculator : None Response Time : N.A Think Time : N.A Minimum Instruction Time : 0**

The market for short term funding?

స్వల్పకాలిక విత్త నిధులకు సంబంధించిన మార్కెట్

**Options :**



Money Market

ద్రవ్య మార్కెట్

1. ✓

Capital Market

మూలధన మార్కెట్

2. ✘

SEBI

SEBI (సెబీ)

3. ✘

Stock Exchange

స్టాక్ ఎక్స్చేంజ్

4. ✘

Question Number : 18 Question Id : 5471143018 Display Question Number : Yes Is Question Mandatory : No Calculator : None Response Time : N.A Think Time : N.A Minimum Instruction Time : 0

The pampas are which plains of Argentina?

అర్జెంటీనాలోని పంపాస్ ఏ మైదానాలు

Options :

Costal Planes

తీర మైదానాలు

1. ✘

Till Planes

టెల్ మైదానాలు

2. ✘



Loess planes

3. ✓

లోయస్ మైదానాలు

Alluvial planes

4. ✘

అల్యూవియర్ మైదానాలు

**Question Number : 19 Question Id : 5471143019 Display Question Number : Yes Is Question Mandatory : No Calculator : None Response Time : N.A Think Time : N.A Minimum Instruction Time : 0**

Under the Indian constitution, residuary powers are vested in \_\_\_\_\_

భారత రాజ్యాంగములో అవశేష అధికారము \_\_\_\_\_ చేతిలో ఉంచారు?

**Options :**

Executive

1. ✘

కార్యనిర్వాహక

Judiciary

2. ✘

న్యాయ వ్యవస్థ

Parliament

3. ✓

పార్లమెంటు

4. ✘

State legislature

రాష్ట్ర శాసన సభ

Question Number : 20 Question Id : 5471143020 Display Question Number : Yes Is Question Mandatory : No Calculator : None Response Time : N.A Think Time : N.A Minimum Instruction Time : 0

Social group is characterized with \_\_\_\_\_

సామాజిక సమూహం యొక్క లక్షణం

- a) Social contract
- b) Social relationship
- c) Social organization

- a) సాంఘిక ఒప్పందము
- b) సాంఘిక సంబంధము
- c) సాంఘిక వ్యవస్థ

Options :

a) and b)

1. ✓ a) మరియు b)

a), b) and c)

2. ✗ a), b) మరియు c)

3. ✗

Only b)

b) మాత్రమే

a) and c)

4. ✘ a) మరియు c)

Question Number : 21 Question Id : 5471143021 Display Question Number : Yes Is Question Mandatory : No Calculator : None Response Time : N.A Think Time : N.A Minimum Instruction Time : 0

Husband and wife within a family can be regarded as \_\_\_\_\_

కుటుంబములో భార్యాభర్తలను \_\_\_\_\_ పరిగణిస్తారు.

Options :

Class

1. ✘ తరగతి

Caste

2. ✘ కులము

Sect

3. ✘ శాఖ

Social role

4. ✔ సామాజిక పాత్ర

Question Number : 22 Question Id : 5471143022 Display Question Number : Yes Is Question Mandatory : No Calculator : None Response Time : N.A Think Time : N.A Minimum Instruction Time : 0

International day of 'zero wastes' is observed on-----.

అంతర్జాతీయ 'సున్నా వ్యర్థం' దినోత్సవాన్ని ఏ రోజు పాటించారు.

Options :

March 25th

మార్చి, 25

1. ✘

March 30th

మార్చి 30

2. ✔

April 6<sup>th</sup>

ఏప్రిల్, 6

3. ✘

April 10th

ఏప్రిల్, 10

4. ✘

Question Number : 23 Question Id : 5471143023 Display Question Number : Yes Is Question Mandatory : No Calculator : None Response Time : N.A Think Time : N.A Minimum Instruction Time : 0

Which article of the Indian constitution deals with the disqualification of MPs from the Lok Sabha or Rajya Sabha?

రాజ్యాంగం లోని ఏ అధికరణ ప్రకారం లోక్‌సభ లేక రాజ్య సభ సభ్యత్వాన్ని రద్దు చేయవచ్చును?

**Options :**

1. ✘ 10

2. ✘ 20

3. ✘ 32

4. ✔ 102

**Question Number : 24 Question Id : 5471143024 Display Question Number : Yes Is Question Mandatory : No Calculator : None Response Time : N.A Think Time : N.A Minimum Instruction Time : 0**

Which of the following articles is related to panchayat Raj system in India?

ఈ క్రింది వానిలో ఏ అధికరణ పంచాయితీరాజ్ వ్యవస్థకు సంబంధించినది.

**Options :**

1. ✔ 243

2. ✘ 324

3. ✘

73

4. ✘

Question Number : 25 Question Id : 5471143025 Display Question Number : Yes Is Question Mandatory : No Calculator : None Response Time : N.A Think Time : N.A Minimum Instruction Time : 0

K. M. Munshi was associated with -----.

K. M. మున్షి ఏ కమిటీలో సభ్యులు

Options :

Constitution draft Committee

1. ✔

రాజ్యాంగ మసాయిద

Preamble Committee

2. ✘

ప్రియాంబుల్ కమిటీ

Public accounts Committee

3. ✘

పబ్లిక్ అకౌంట్స్

Parliamentary Committee.

4. ✘

పార్లమెంటరీ కమిటీ

Question Number : 26 Question Id : 5471143026 Display Question Number : Yes Is Question Mandatory : No Calculator : None Response Time : N.A Think Time : N.A Minimum Instruction Time : 0

In which part of the Indian constitution, the fundamental rights are provided?

భారత రాజ్యాంగంలోని ఏ విభాగములో ప్రాథమిక హక్కులు పొందుపరచబడినవి?

Options :

Part II

1. ✘

Part III

2. ✔

Part IV

3. ✘

Part V

4. ✘

Question Number : 27 Question Id : 5471143027 Display Question Number : Yes Is Question Mandatory : No Calculator : None Response Time : N.A Think Time : N.A Minimum Instruction Time : 0

The fundamental duties were included in the Constitution of India by which of the following Amendment Act.

భారత రాజ్యాంగం లోని ఏ సవరణ ప్రకారం ప్రాథమిక విధులను పొందుపరచారు.

Options :

1. ✘

39<sup>th</sup>

2. ✘ 40<sup>th</sup>

3. ✔ 42<sup>nd</sup>

4. ✘ 43<sup>rd</sup>

Question Number : 28 Question Id : 5471143028 Display Question Number : Yes Is Question Mandatory : No Calculator : None Response Time : N.A Think Time : N.A Minimum Instruction Time : 0

Dr. M. Balamurali Krishna was a renowned artist of -----.

డా॥ మంగళంపల్లి బాలమురళి కృష్ణ ఏ కళకు చెందిన వారు?

Options :

Hindustani Vocal

1. ✘ హిందుస్థానీ గాత్రం

Carnatic Vocal

2. ✔ కర్ణాటక గాత్రం

Dhrupad style

3. ✘ దృపద సంప్రదాయం



Kuchapudi Style.

కూచిపూడి సంప్రదాయం

4. ✘

Question Number : 29 Question Id : 5471143029 Display Question Number : Yes Is Question Mandatory : No Calculator : None Response Time : N.A Think Time : N.A Minimum Instruction Time : 0

'e -Mail' stands for -----.

'e -Mail' అనగా-----

Options :

Electrical mail

1. ✘

ఎలక్ట్రికల్ మెయిల్

Electromagnetic mail

2. ✘

ఎలక్ట్రో మేగ్నెటిక్ మెయిల్

Electronic mail

3. ✔

ఎలక్ట్రానిక్ మెయిల్

Engine mail.

4. ✘

ఇంజన్ మెయిల్

Question Number : 30 Question Id : 5471143030 Display Question Number : Yes Is Question

**Mandatory : No Calculator : None Response Time : N.A Think Time : N.A Minimum Instruction Time : 0**

The Eight-fold path philosophy was propounded by -----.

అష్టాంగ మార్గాన్ని ప్రతిపాదించినది.

**Options :**

Goutham Buddha

1. ✓ గౌతమ బుద్ధుడు

Ramanuja

2. ✘ రామానుజుడు

Mahavir

3. ✘ మహావీరుడు

Shankaracharya.

4. ✘ శంకరాచార్యుడు

**Question Number : 31 Question Id : 5471143031 Display Question Number : Yes Is Question Mandatory : No Calculator : None Response Time : N.A Think Time : N.A Minimum Instruction Time : 0**

In the following parties, which one is not a state party.

ఈ క్రింది వానిలో ప్రాంతీయ / రాష్ట్ర పార్టీ కానిది ఏది.

**Options :**

1. ✘

DMK

SAD

2. ✘

YSRCP

3. ✘

CPI.

4. ✔

Question Number : 32 Question Id : 5471143032 Display Question Number : Yes Is Question Mandatory : No Calculator : None Response Time : N.A Think Time : N.A Minimum Instruction Time : 0

The BJP's first president is -----.

భారతీయ జనతాపార్టీ మొదటి అధ్యక్షుడు ఎవరు?

Options :

L. K. Advani

1. ✘

ఎల్.కె.అద్వాని

A. B. Vajpayee

2. ✔

ఎ.బి.వాజ్‌పాయ్

M. M. Joshi

3. ✘

ఎమ్.ఎమ్.జోషి

Sikandar Bakht.

సికందర్ బక్త్

4. ✘

Question Number : 33 Question Id : 5471143033 Display Question Number : Yes Is Question Mandatory : No Calculator : None Response Time : N.A Think Time : N.A Minimum Instruction Time : 0

Anatagiri hills is in which of the following states of India?

అనంతగిరి కొండలు ఏ రాష్ట్రములో కలవు?

Options :

Madhya Pradesh

మధ్యప్రదేశ్

1. ✘

Telangana

తెలంగాణ

2. ✔

Chattisgarh

ఛత్తీస్‌ఘర్

3. ✘

West Bengal.

పశ్చిమ బెంగాల్

4. ✘

Question Number : 34 Question Id : 5471143034 Display Question Number : Yes Is Question Mandatory : No Calculator : None Response Time : N.A Think Time : N.A Minimum Instruction Time : 0

The longest rail tunnel in the world is -----.

ప్రపంచములోని అతి పొడవైన రైలు స్వరంగం ఏది.

Options :

Gotthard Base

1. ✓ గత్తేర్డ్ బేస్

Seikan

2. ✗ సైకాన్

Yulheon

3. ✗ యెల్ హియోన్

Channel.

4. ✗ చానెల్

Question Number : 35 Question Id : 5471143035 Display Question Number : Yes Is Question Mandatory : No Calculator : None Response Time : N.A Think Time : N.A Minimum Instruction Time : 0

The supreme commander of Indian armed forces is -----.

భారత దేశపు అత్యున్నత సాయుధ దళాధిపతి ఎవరు?

Options :

Prime Minister of India

భారత ప్రధాన మంత్రి

1. ✘

President of India

భారత రాష్ట్రపతి

2. ✔

Vice- president

ఉప రాష్ట్రపతి

3. ✘

Defense Minister of India.

భారత రక్షణ శాఖ మంత్రి

4. ✘

**Question Number : 36 Question Id : 5471143036 Display Question Number : Yes Is Question Mandatory : No Calculator : None Response Time : N.A Think Time : N.A Minimum Instruction Time : 0**

Which legal body has the power to enforce the fundamental rights in India?

భారతదేశంలో ఏ చట్ట వ్యవస్థ ప్రాథమిక హక్కులను అమలు పరుస్తుంది?

**Options :**

Parliament

పార్లమెంటు

1. ✘

Supreme Court

2. ✓ సుప్రీం కోర్టు

Human rights commission

3. ✘ మానవ హక్కుల కమిషన్

Ministry of Home affairs.

4. ✘ గృహ మంత్రిత్వ శాఖ

Question Number : 37 Question Id : 5471143037 Display Question Number : Yes Is Question Mandatory : No Calculator : None Response Time : N.A Think Time : N.A Minimum Instruction Time : 0

Speed of the internet is measured in -----.

ఇంటర్నెట్ వేగాన్ని దేనిలో కొలుస్తారు?

Options :

1. ✘ GHG

2. ✓ Gbps

3. ✘ GB

4. ✘ Dpi

Question Number : 38 Question Id : 5471143038 Display Question Number : Yes Is Question Mandatory : No Calculator : None Response Time : N.A Think Time : N.A Minimum Instruction Time : 0

National emergency is mentioned in the constitution under article -----.

రాజ్యాంగంలోని ఏ అధికరణలో 'జాతీయ ఎమర్జెన్సీ' పొందుపరచి ఉన్నది

Options :

1. ✘ 398

2. ✘ 360

3. ✘ 356

4. ✔ 352

Question Number : 39 Question Id : 5471143039 Display Question Number : Yes Is Question Mandatory : No Calculator : None Response Time : N.A Think Time : N.A Minimum Instruction Time : 0

73rd Amendment of the constitution refers to -----.

భారత రాజ్యాంగంలోని 73వ సవరణ

Options :

States reorganisation

రాష్ట్రాల పునర్వ్యవస్థీకరణ

1. ✘



Panchayati raj institutions

2. ✓ పంచాయతీ రాజ్

cooperative Societies

3. ✘ సహాయక సంఘాలు

Fundamental duties

4. ✘ ప్రాథమిక విధులు

**Question Number : 40 Question Id : 5471143040 Display Question Number : Yes Is Question Mandatory : No Calculator : None Response Time : N.A Think Time : N.A Minimum Instruction Time : 0**

The division of powers between the Union and States are mention in \_\_\_\_ schedule.

కేంద్ర మరియు రాష్ట్ర అధికారాల విభజన గురించి ఏ షెడ్యూల్ వివరిస్తుంది?

**Options :**

1. ✘ 5<sup>th</sup>

2. ✘ 6<sup>th</sup>

3. ✓ 7<sup>th</sup>

4. ✘ 8<sup>th</sup>

Question Number : 41 Question Id : 5471143041 Display Question Number : Yes Is Question Mandatory : No Calculator : None Response Time : N.A Think Time : N.A Minimum Instruction Time : 0

He wrote a letter. The passive voice of the above sentence is \_\_\_\_\_

Options :

A letter was being written by him

1. ✘

A letter was written by him

2. ✔

A letter had been written by him

3. ✘

A letter is written by him

4. ✘

Question Number : 42 Question Id : 5471143042 Display Question Number : Yes Is Question Mandatory : No Calculator : None Response Time : N.A Think Time : N.A Minimum Instruction Time : 0

He is my brother. The underline word is a /an \_\_\_\_\_

Options :

1. ✘

noun

2. ✓ pronoun

3. ✘ preposition

4. ✘ adjective

**Question Number : 43 Question Id : 5471143043 Display Question Number : Yes Is Question Mandatory : No Calculator : None Response Time : N.A Think Time : N.A Minimum Instruction Time : 0**

Neither of the paintings \_\_\_\_\_ sold

**Options :**

1. ✘ have been

2. ✘ were

3. ✘ are

4. ✓ was

Question Number : 44 Question Id : 5471143044 Display Question Number : Yes Is Question Mandatory : No Calculator : None Response Time : N.A Think Time : N.A Minimum Instruction Time : 0

He is always found reading the newspaper. The tense of the underlined phrase is \_\_\_\_\_ tense

Options :

Present indefinite

1. ✘

Present continuous

2. ✔

Present perfect continuous

3. ✘

Present perfect

4. ✘

Question Number : 45 Question Id : 5471143045 Display Question Number : Yes Is Question Mandatory : No Calculator : None Response Time : N.A Think Time : N.A Minimum Instruction Time : 0

“Once in a blue moon “means \_\_\_\_\_

Options :

Once in a month

1. ✘

Frequently

2. ✘

3. ✘ Once in a year

4. ✔ On rare occasions

Question Number : 46 Question Id : 5471143046 Display Question Number : Yes Is Question Mandatory : No Calculator : None Response Time : N.A Think Time : N.A Minimum Instruction Time : 0

“To save one’s face “means \_\_\_\_\_

Options :

1. ✘ To hide one self

2. ✔ To evade disgrace

3. ✘ To oppose

4. ✘ To say clearly

Question Number : 47 Question Id : 5471143047 Display Question Number : Yes Is Question Mandatory : No Calculator : None Response Time : N.A Think Time : N.A Minimum Instruction Time : 0

The antonym of 'Adversity' is \_\_\_\_\_

Options :

1. ✘ Calamity

2. ✔ Prosperity

3. ✘ Stupidity

4. ✘ Ecstasy

Question Number : 48 Question Id : 5471143048 Display Question Number : Yes Is Question Mandatory : No Calculator : None Response Time : N.A Think Time : N.A Minimum Instruction Time : 0

The interviewer asked the candidate \_\_\_\_\_ distance he came from

Options :

1. ✘ what

2. ✘ where

3. ✔ which

whom

4. ✘

**Question Number : 49 Question Id : 5471143049 Display Question Number : Yes Is Question Mandatory : No Calculator : None Response Time : N.A Think Time : N.A Minimum Instruction Time : 0**

I have not seen him \_\_\_\_\_ yesterday

**Options :**

from

1. ✘

since

2. ✔

for

3. ✘

on

4. ✘

**Question Number : 50 Question Id : 5471143050 Display Question Number : Yes Is Question Mandatory : No Calculator : None Response Time : N.A Think Time : N.A Minimum Instruction Time : 0**

My pen has been stolen. The active voice of the above sentence is \_\_\_\_\_

**Options :**

Some one stolen my pen

1. ✘

Someone had stolen my pen

2. ✘

Someone has stolen my pen

3. ✔

Someone stools my pen

4. ✘

**Question Number : 51 Question Id : 5471143051 Display Question Number : Yes Is Question Mandatory : No Calculator : None Response Time : N.A Think Time : N.A Minimum Instruction Time : 0**

I am coming too. Please wait for \_\_\_\_\_

**Options :**

1. ✘ I

2. ✘ mine

3. ✘ I am

4. ✔ me



Question Number : 52 Question Id : 5471143052 Display Question Number : Yes Is Question Mandatory : No Calculator : None Response Time : N.A Think Time : N.A Minimum Instruction Time : 0

How many fruits \_\_\_\_\_ yesterday

Options :

you have eaten

1. ✘

did you eat

2. ✔

do you

3. ✘

does you

4. ✘

Question Number : 53 Question Id : 5471143053 Display Question Number : Yes Is Question Mandatory : No Calculator : None Response Time : N.A Think Time : N.A Minimum Instruction Time : 0

I went \_\_\_\_\_ my father's advice and bought this house

Options :

off

1. ✘

against

2. ✔

3. ✘ at

4. ✘ out

**Question Number : 54 Question Id : 5471143054 Display Question Number : Yes Is Question Mandatory : No Calculator : None Response Time : N.A Think Time : N.A Minimum Instruction Time : 0**

I \_\_\_\_\_ an old school friend of mine when I was travelling in Canada

**Options :**

1. ✔ came across

2. ✘ came in

3. ✘ come at

4. ✘ came out

**Question Number : 55 Question Id : 5471143055 Display Question Number : Yes Is Question Mandatory : No Calculator : None Response Time : N.A Think Time : N.A Minimum Instruction Time : 0**

She \_\_\_\_\_ their engagement after discovering the he was a liar

**Options :**

1. ✘ break of

2. ✘ broke of

3. ✘ break off

4. ✔ broke off

**Question Number : 56 Question Id : 5471143056 Display Question Number : Yes Is Question Mandatory : No Calculator : None Response Time : N.A Think Time : N.A Minimum Instruction Time : 0**

“Swan – song “means \_\_\_\_\_

**Options :**

1. ✘ To saying beautifully at last

2. ✘ To join a band a bird of the same feather

3. ✘ To praise some body with selfish interests

Last work of a poet or a musician before death

4. ✓

Question Number : 57 Question Id : 5471143057 Display Question Number : Yes Is Question Mandatory : No Calculator : None Response Time : N.A Think Time : N.A Minimum Instruction Time : 0

The synonym of the word "Barrow" is \_\_\_\_\_

Options :

Fertile

1. ✘

Profuse

2. ✘

Desolate

3. ✓

Stop

4. ✘

Question Number : 58 Question Id : 5471143058 Display Question Number : Yes Is Question Mandatory : No Calculator : None Response Time : N.A Think Time : N.A Minimum Instruction Time : 0

We have a house \_\_\_\_\_ a big garden

Options :

with

1. ✓

2. ✘ on

3. ✘ at

4. ✘ for

Question Number : 59 Question Id : 5471143059 Display Question Number : Yes Is Question Mandatory : No Calculator : None Response Time : N.A Think Time : N.A Minimum Instruction Time : 0

Do you know the importance \_\_\_\_\_ clean water?

Options :

1. ✘ with

2. ✔ of

3. ✘ in

4. ✘ about

Question Number : 60 Question Id : 5471143060 Display Question Number : Yes Is Question

**Mandatory : No Calculator : None Response Time : N.A Think Time : N.A Minimum Instruction Time : 0**

No sooner did the teacher enter the class \_\_\_\_\_ the students stood up

**Options :**

1. ✘ when

2. ✘ after

3. ✔ than

4. ✘ by

**Question Number : 61 Question Id : 5471143061 Display Question Number : Yes Is Question Mandatory : No Calculator : None Response Time : N.A Think Time : N.A Minimum Instruction Time : 0**

'A' can do a piece of work in 10 days. 'B' do same work in 20 days and 'C' can do in 25 days. In how many days will A,B and C finish the work together?

'A' ఒక పనిని 10 రోజులలోను, B అదే పనిని 20 రోజులలోను, 'C' ఆ పనిని 25 రోజులలోను చేయగలరు. అదే పనిని ముగ్గురు కలిసి ఎన్ని రోజులలో చేయగలరు.

**Options :**

1. ✔  $5 \frac{5}{19}$  days

2. ✘  $5 \frac{6}{19}$  days

3. ✘  $10 \frac{2}{14}$  days

4. ✘  $15 \frac{3}{19}$  days

**Question Number : 62 Question Id : 5471143062 Display Question Number : Yes Is Question Mandatory : No Calculator : None Response Time : N.A Think Time : N.A Minimum Instruction Time : 0**

If 10 men weave 10 mats in 10 days then how many men will be required to weave 100 mats in 100 days?

10 మంది పురుషులు 10 రోజులలో 10 చాపలు నేస్తే, 100 రోజులలో 100 చాపలు

నేయడానికి ఎంత మంది పురుషులు అవసరం?

**Options :**

1. ✘ 1

2. ✔ 10

3. ✘ 1000

100

4. ✘

Question Number : 63 Question Id : 5471143063 Display Question Number : Yes Is Question Mandatory : No Calculator : None Response Time : N.A Think Time : N.A Minimum Instruction Time : 0

If  $A:B=2:3$ ,  $B:C=5:4$ ,  $C:D=3:7$ , then find  $A:B:C:D=?$

$A:B=2:3$ ,  $B:C=5:4$ ,  $C:D=3:7$  అయితే  $A:B:C:D$  విలువను కనుగొనుము

Options :

1. ✘ 13:17:14:21

2. ✔ 10:15:12:28

3. ✘ 43:41:31:40

4. ✘ 8:6:5:10

Question Number : 64 Question Id : 5471143064 Display Question Number : Yes Is Question Mandatory : No Calculator : None Response Time : N.A Think Time : N.A Minimum Instruction Time : 0

If 40% of the number exceeds the 25% of it by 54 the number is \_\_\_\_.

ఒక సంఖ్యలోని 40% అనేది దానిలోని 25% కి 54 మించితే, ఆ సంఖ్య\_\_\_\_\_

Options :



1. ✘ 100

2. ✘ 150

3. ✘ 180

4. ✔ 360

**Question Number : 65 Question Id : 5471143065 Display Question Number : Yes Is Question Mandatory : No Calculator : None Response Time : N.A Think Time : N.A Minimum Instruction Time : 0**

A car moves from A to B at a speed of 60 kmph and comes back from B to A at a speed of 40 kmph. Then the average speed of the car during the journey is \_\_\_\_.

ఒక కారు A నుండి B కి గంటకు 60 కిమీ వేగంతో కదులుతుంది మరియు B నుండి A కి గంటకు 40 కిమీ వేగంతో తిరిగి వస్తుంది. అప్పుడు ప్రయాణ సమయంలో కారు సగటు వేగం \_\_\_\_\_

**Options :**

1. ✘ 50 kmph

2. ✘ 240 kmph

3. ✓ 48 kmph

4. ✘ 25 kmph

Question Number : 66 Question Id : 5471143066 Display Question Number : Yes Is Question Mandatory : No Calculator : None Response Time : N.A Think Time : N.A Minimum Instruction Time : 0

Two friends X and Y walk from A to B at a distance of 39 km, at 3 kmph and  $\frac{7}{2}$

kmph respectively. Y searches B, returns immediately and meets X at C. The distance from A to C is \_\_\_\_\_.

ఇద్దరు స్నేహితులు X మరియు Y లు A నుండి B కి మధ్యగల 39 కిమీ దూరాన్ని

3 kmph మరియు  $\frac{7}{2}$  kmph వేగాలతో నడుస్తారు. Y, B ని అన్వేషించి, వెంటనే తిరిగి

వచ్చి X ని C వద్ద కలుస్తాడు. అయితే A నుండి C వరకు గల దూరము \_\_\_\_\_

Options :

1. ✘ 78 km

2. ✓ 36 km

3. ✘ 13 km

39 km

4. ✘

Question Number : 67 Question Id : 5471143067 Display Question Number : Yes Is Question Mandatory : No Calculator : None Response Time : N.A Think Time : N.A Minimum Instruction Time : 0

Find the 350 rupees increased by 12% is

350 రూపాయలకు 12% పెంచిన మొత్తం ఎంత.

Options :

402

1. ✘

308

2. ✘

392

3. ✔

408

4. ✘

Question Number : 68 Question Id : 5471143068 Display Question Number : Yes Is Question Mandatory : No Calculator : None Response Time : N.A Think Time : N.A Minimum Instruction Time : 0

Find the missing number in the following number series:

3, 7, 15, ?, 63, 127.

ఈ క్రింది శ్రేణిలలో ప్రశ్నార్థకం స్థానంలో ఏమి వస్తుంది?

3, 7, 15, ?, 63, 127

Options :

1. ✘ 30

2. ✔ 31

3. ✘ 47

4. ✘ 52

Question Number : 69 Question Id : 5471143069 Display Question Number : Yes Is Question Mandatory : No Calculator : None Response Time : N.A Think Time : N.A Minimum Instruction Time : 0

Find the next sequence of letters IW, HU, GS, FQ, ?.

తరువాత వచ్చు క్రమము యొక్క విలువ IW, HU, GS, FQ,?

Options :

1. ✘ DO

2. ✔ DM

MD

3. ✘

MN

4. ✘

**Question Number : 70 Question Id : 5471143070 Display Question Number : Yes Is Question Mandatory : No Calculator : None Response Time : N.A Think Time : N.A Minimum Instruction Time : 0**

If 'DEAR' is coded as 'FGCT', then how will 'READ' be coded

'DEAR' అనే పదాన్ని 'FGCT' కోడ్‌గా రాస్తే, 'READ' అనే పదాన్ని క్రింది విధంగా రాయవచ్చు.

**Options :**

TGCF

1. ✔

CFAG

2. ✘

FGAR

3. ✘

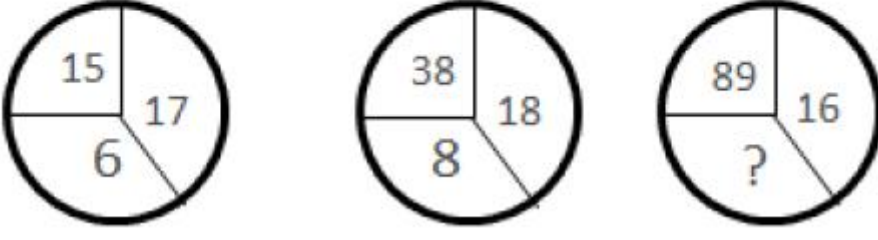
AEFR

4. ✘

**Question Number : 71 Question Id : 5471143071 Display Question Number : Yes Is Question Mandatory : No Calculator : None Response Time : N.A Think Time : N.A Minimum Instruction Time : 0**

Find the missing value for a given puzzle?

ఇచ్చిన పటములో లోపించిన విలువ కనుగొనుము?



Options :

1. ✘ 20

2. ✔ 15

3. ✘ 71

4. ✘ 51

Question Number : 72 Question Id : 5471143072 Display Question Number : Yes Is Question Mandatory : No Calculator : None Response Time : N.A Think Time : N.A Minimum Instruction Time : 0

Find the angle between the hour hand and the minute hand of a clock when the time is 9:30.

గడియారంలో సమయం 9:30 నిమిషాలు అయితే రెండు ముల్లల మధ్యకోణం ఎంత?

Options :

1. ✔  $105^{\circ}$

2. ✘  $65^0$

3. ✘  $135^0$

4. ✘  $12^0$

**Question Number : 73 Question Id : 5471143073 Display Question Number : Yes Is Question Mandatory : No Calculator : None Response Time : N.A Think Time : N.A Minimum Instruction Time : 0**

Find the day of the week on 01-01-2001?

01-01-2001 ఏ వారము వచ్చును?

**Options :**

1. ✔ Sunday  
ఆదివారం

2. ✘ Monday  
సోమవారం

3. ✘ Saturday  
శనివారం

Tuesday

మంగళవారం

4. ✘

**Question Number : 74 Question Id : 5471143074 Display Question Number : Yes Is Question Mandatory : No Calculator : None Response Time : N.A Think Time : N.A Minimum Instruction Time : 0**

If in a certain language, POPULAR is coded as QPQVMBS, which word would be coded as GBNPVT?

ఒక నిర్దిష్ట భాషలో, POPULAR ని QPQVMBS గా కోడ్ చేసినట్లయితే,

ఏ పదం GBNPVT గా కోడ్ చేయబడుతుంది?

**Options :**

FARMER

1. ✘

FAMOUS

2. ✔

FRAMES

3. ✘

FARMES

4. ✘

**Question Number : 75 Question Id : 5471143075 Display Question Number : Yes Is Question Mandatory : No Calculator : None Response Time : N.A Think Time : N.A Minimum Instruction Time : 0**



In the following question according to English language, there is a definite relationship between the first two entries. The same kind of relation exists between the third and fourth entries. Choose the correct one among the given options to fill the blank.

క్రింది ఇచ్చిన, మొదటి రెండు పదాల మధ్య ఒక ప్రత్యేక సంబంధం ఉన్నది. అదే విధంగా మూడవ పదమునకు ఇచ్చిన ప్రత్యామ్నాయాల నుండి అదే విధమైన సంబంధం కలిగి ఉన్న దానిని ఎంచుకొనుము.

Bread : Yeast :: Curd : \_\_\_\_\_ ?

రొట్టె : ఈస్ట్ :: పెరుగు : \_\_\_\_\_ ?

**Options :**

Fungi

సిలిండ్రం

1. ✘

Bacteria

బ్యాక్టీరియా

2. ✔

Germs

క్రిములు

3. ✘

Germs

విషక్రిములు

4. ✘

Question Number : 76 Question Id : 5471143076 Display Question Number : Yes Is Question Mandatory : No Calculator : None Response Time : N.A Think Time : N.A Minimum Instruction Time : 0

Which of the following year will have the same calendar as that of 2001?

ఈ క్రింది సంవత్సరాల్లో ఏ సంవత్సరం, 2001 వ సంవత్సరం క్యాలెండర్‌ను పోలి ఉంటుంది.

Options :

1. ✘ 2008

2. ✘ 2009

3. ✘ 2010

4. ✔ 2007

Question Number : 77 Question Id : 5471143077 Display Question Number : Yes Is Question Mandatory : No Calculator : None Response Time : N.A Think Time : N.A Minimum Instruction Time : 0

If '+' means '÷', '×' means '-', '÷' means '×' and '-' means '+' then "8+6×4÷3-4=?"

'+' ను '÷' గానూ, '×' ను '-' గానూ, '÷' ను '×' గానూ, '-' ను '+' గానూ, రాస్తే

"8+6×4÷3-4=?" విలువ ఎంత?

Options :

1. ✔

$$\frac{-20}{3}$$

14

2. ✘

10

3. ✘

60

4. ✘

Question Number : 78 Question Id : 5471143078 Display Question Number : Yes Is Question Mandatory : No Calculator : None Response Time : N.A Think Time : N.A Minimum Instruction Time : 0

How is my sister's husband's mother related to me?

నా సోదరి భర్త తల్లి నాకు ఏమాతుంది?

Options :

Brother

సోదరుడు

1. ✘

Aunt

అత్త

2. ✔

3. ✘

Sister

సోదరి

Not related

ఎటువంటి సంబంధము లేదు

4. ✘

Question Number : 79 Question Id : 5471143079 Display Question Number : Yes Is Question Mandatory : No Calculator : None Response Time : N.A Think Time : N.A Minimum Instruction Time : 0

Find the odd-man out of the following.

క్రింది వానిలో బిన్నమైనది ఏది?

Options :

BCD

1. ✘

NPR

2. ✔

KLM

3. ✘

PQR

4. ✘

Question Number : 80 Question Id : 5471143080 Display Question Number : Yes Is Question

**Mandatory : No Calculator : None Response Time : N.A Think Time : N.A Minimum Instruction Time : 0**

Find the simple interest on ₹ 15000 at the rate of 8% per annum for 2 years.

రూ. 15,000లపై 8% వడ్డీ రేటున 2 సం॥లకు అయ్యే బారువడ్డీ ఎంత?

**Options :**

1. ✘ 2100

2. ✘ 2600

3. ✘ 3000

4. ✔ 2400

**Question Number : 81 Question Id : 5471143081 Display Question Number : Yes Is Question Mandatory : No Calculator : None Response Time : N.A Think Time : N.A Minimum Instruction Time : 0**

Pointing to a lady, a man said, "The son of her only brother is the brother of my wife." How is the lady related to the man?

ఒక స్త్రీని చూపిస్తూ ఒక పురుషుడు, "అమె ఏకైక సోదరుని కుమారుడు నా భార్యకు

సోదరుడు" అన్నాడు. ఆ స్త్రీ ఆ పురుషునికి ఏమవుతుంది.

**Options :**

Mother's sister

తల్లి యొక్క సోదరి

1. ✘

Grandmother

అమ్మమ్మ / నానమ్మ

2. ✘

Mother-in-law

అత్తగారు

3. ✘

Sister of father-in-law

మామగారి సోదరి

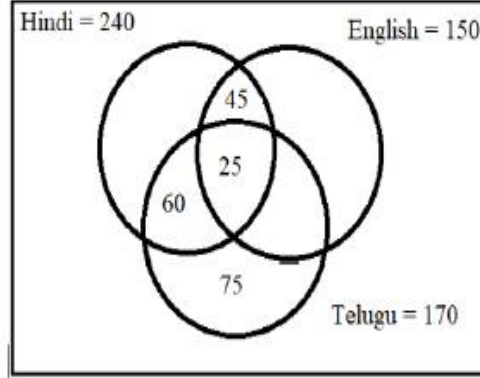
4. ✔

Question Number : 82 Question Id : 5471143082 Display Question Number : Yes Is Question Mandatory : No Calculator : None Response Time : N.A Think Time : N.A Minimum Instruction Time : 0

Question is based on the diagram given below:

ఇచ్చిన రేఖా చిత్రాన్ని పరిశీలించి, క్రింది ప్రశ్నకు సమాధానము ఇవ్వండి.

$$\mu = 500$$



How many people speak only English?

ఎంతమంది ఆంగ్ల భాషను మాత్రమే మాట్లాడగలరు?

Options :

1. ✘ 75

2. ✔ 70

3. ✘ 85

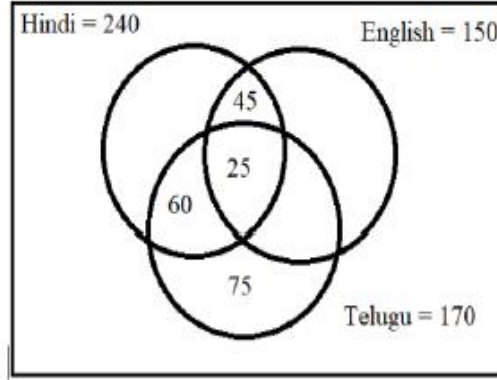
4. ✘ 80

Question Number : 83 Question Id : 5471143083 Display Question Number : Yes Is Question Mandatory : No Calculator : None Response Time : N.A Think Time : N.A Minimum Instruction Time : 0

Question is based on the diagram given below:

ఇచ్చిన రేఖా చిత్రాన్ని పరిశీలించి, క్రింది ప్రశ్నకు సమాధానము ఇవ్వండి.

$$\mu = 500$$



How many people speak exactly two languages?

రెండు భాషలను మాత్రమే మాట్లాడేవారు ఎంతమంది?

Options :

1. ✘ 90

2. ✘ 110

3. ✔ 115

4. ✘ 100

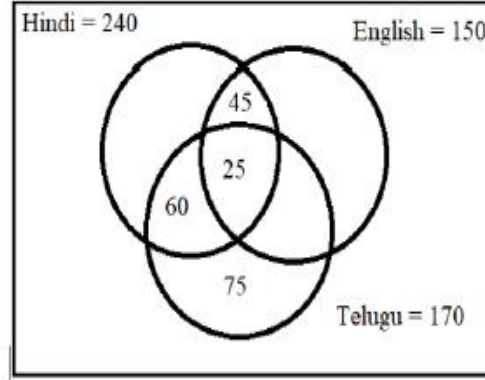
Question Number : 84 Question Id : 5471143084 Display Question Number : Yes Is Question Mandatory : No Calculator : None Response Time : N.A Think Time : N.A Minimum Instruction Time : 0



Question is based on the diagram given below:

ఇచ్చిన రేఖా చిత్రాన్ని పరిశీలించి, క్రింది ప్రశ్నకు సమాధానము ఇవ్వండి.

$$\mu = 500$$



How many people do not speak Hindi?

హిందీ భాషను మాట్లాడలేని వారు ఎంత మంది?

Options :

1. ✓ 260

2. ✘ 160

3. ✘ 200

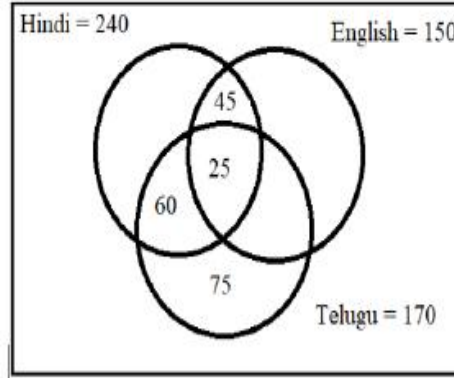
4. ✘ 250

Question Number : 85 Question Id : 5471143085 Display Question Number : Yes Is Question Mandatory : No Calculator : None Response Time : N.A Think Time : N.A Minimum Instruction Time : 0

Question is based on the diagram given below:

ఇచ్చిన రేఖా చిత్రాన్ని పరిశీలించి, క్రింది ప్రశ్నకు సమాధానము ఇవ్వండి.

$$\mu = 500$$



How many people speak at most one language?

ఒకే ఒక భాషలో ఎంత మంది మాట్లాడుతారు?

Options :

1. ✘ 395
2. ✘ 250
3. ✘ 255
4. ✔ 360

Question Number : 86 Question Id : 5471143086 Display Question Number : Yes Is Question Mandatory : No Calculator : None Response Time : N.A Think Time : N.A Minimum Instruction Time : 0

There are five people. L, M, N, O, P sitting in a row. To the right side of N sat L.

To the left of P sat M. To the right of O sat N and to the right of L sat M.

ఐదుగురు వ్యక్తులు అనగా L,M,N,O,P వరుసగా కూర్చున్నారు. N కి కుడి వైపున L కూర్చున్నాడు.

P కి ఎడమ వైపు M కూర్చున్నాడు. O కి కుడి వైపు N కూర్చున్నాడు. L కి కుడివైపు M కూర్చున్నాడు.

The person who sat at the extreme left is?

అత్యంత ఎడమ వైపున కూర్చున్న వ్యక్తి \_\_\_\_\_

**Options :**

1. ✘ N

2. ✘ M

3. ✔ O

4. ✘ L

**Question Number : 87 Question Id : 5471143087 Display Question Number : Yes Is Question Mandatory : No Calculator : None Response Time : N.A Think Time : N.A Minimum Instruction Time : 0**

There are five people. L, M, N, O, P sitting in a row. To the right side of N sat L.

To the left of P sat M. To the right of O sat N and to the right of L sat M.

ఐదుగురు వ్యక్తులు అనగా L,M,N,O,P వరుసగా కూర్చున్నారు. N కి కుడి వైపున L కూర్చున్నాడు.

P కి ఎడమ వైపు M కూర్చున్నాడు. O కి కుడి వైపు N కూర్చున్నాడు. L కి కుడివైపు M కూర్చున్నాడు.

The person who sat at the extreme right is?

అత్యంత కుడి వైపున కూర్చున్న వ్యక్తి \_\_\_\_\_

**Options :**

1. ✘ O

2. ✔ P

3. ✘ L

4. ✘ M

**Question Number : 88 Question Id : 5471143088 Display Question Number : Yes Is Question Mandatory : No Calculator : None Response Time : N.A Think Time : N.A Minimum Instruction Time : 0**

There are five people. L, M, N, O, P sitting in a row. To the right side of N sat L.

To the left of P sat M. To the right of O sat N and to the right of L sat M.

ఐదుగురు వ్యక్తులు అనగా L,M,N,O,P వరుసగా కూర్చున్నారు. N కి కుడి వైపున L కూర్చున్నాడు.

P కి ఎడమ వైపు M కూర్చున్నాడు. O కి కుడి వైపు N కూర్చున్నాడు. L కి కుడివైపు M కూర్చున్నాడు.

The person who sat in the middle is?

మధ్యలో కూర్చున్న వ్యక్తి \_\_\_\_\_

**Options :**

1. ✓ L

2. ✗ M

3. ✗ N

4. ✗ P

**Question Number : 89 Question Id : 5471143089 Display Question Number : Yes Is Question Mandatory : No Calculator : None Response Time : N.A Think Time : N.A Minimum Instruction Time : 0**

Find the value of  $36-2(20+12\div 4\times 3-2\times 2)+10=$

$36-2(20+12\div 4\times 3-2\times 2)+10$  విలువ ఎంత?

**Options :**

1. ✓ -4

2. ✘ 6

3. ✘ 8

4. ✘ 10

Question Number : 90 Question Id : 5471143090 Display Question Number : Yes Is Question Mandatory : No Calculator : None Response Time : N.A Think Time : N.A Minimum Instruction Time : 0

Find the unit digit of  $8^{3456789}$

$8^{3456789}$  యొక్క ఒకట్ల స్థానంలోని అంకె యొక్క విలువ?

Options :

1. ✘ 5

2. ✔ 8

3. ✘ 9

4. ✘ 10

Question Number : 91 Question Id : 5471143091 Display Question Number : Yes Is Question Mandatory : No Calculator : None Response Time : N.A Think Time : N.A Minimum Instruction

**Time : 0**

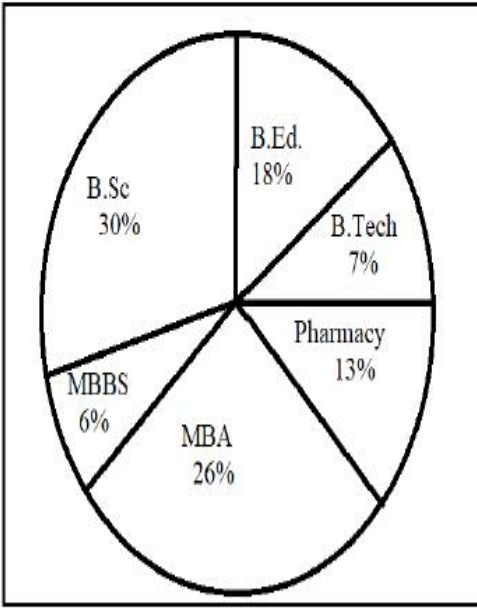
Study the following Pie-chart carefully to answer the question.

Total Students = 13000. Percentage distribution of Students of different courses in a City.

క్రింది ఇచ్చిన పై-చార్టును జాగ్రత్తగా పరిశీలించి, క్రింది ప్రశ్నకు సమాధానం ఇవ్వండి.

మొత్తం విద్యార్థుల సంఖ్య = 13000

ఒక పట్టణంలోని వివిధ కోర్సులను చదువుతున్న విద్యార్థుల శాతం :



What is the difference between the number of students of MBA and MBBS courses?

MBA మరియు MBBS కోర్సులు చదువుతున్న విద్యార్థుల మధ్య గల వ్యత్యాసం ఎంత?

**Options :**

3380

1. ✘

780

2. ✘



3. ✘ 1300

4. ✔ 2600

**Question Number : 92 Question Id : 5471143092 Display Question Number : Yes Is Question Mandatory : No Calculator : None Response Time : N.A Think Time : N.A Minimum Instruction Time : 0**

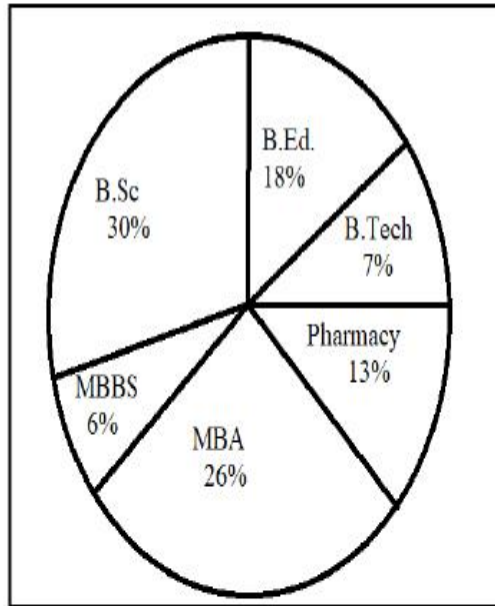
Study the following Pie-chart carefully to answer the question.

Total Students = 13000. Percentage distribution of Students of different courses in a City.

క్రింది ఇచ్చిన పై-చార్టును జాగ్రత్తగా పరిశీలించి, క్రింది ప్రశ్నకు సమాధానం ఇవ్వండి.

మొత్తం విద్యార్థుల సంఖ్య = 13000

ఒక పట్టణంలోని వివిధ కోర్సులను చదువుతున్న విద్యార్థుల శాతం :



Students of MBBS constitute what percent of students of B.Ed.?

MBBS చదువుతున్న విద్యార్థుల సంఖ్య, B.Ed చదువుతున్న విద్యార్థుల సంఖ్యలో ఎంతశాతం?



**Options :**

1. ✘ 25%

2. ✔ 33.33%

3. ✘ 50%

4. ✘ 66.66%

**Question Number : 93 Question Id : 5471143093 Display Question Number : Yes Is Question Mandatory : No Calculator : None Response Time : N.A Think Time : N.A Minimum Instruction Time : 0**

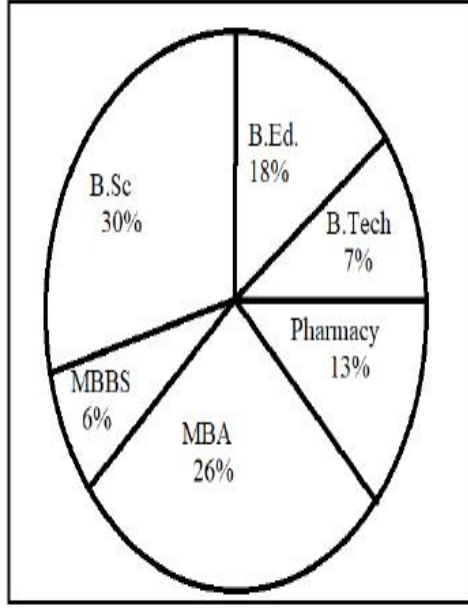
Study the following Pie-chart carefully to answer the question.

Total Students = 13000. Percentage distribution of Students of different courses in a City.

క్రింది ఇచ్చిన పై-చార్టును జాగ్రత్తగా పరిశీలించి, క్రింది ప్రశ్నకు సమాధానం ఇవ్వండి.

మొత్తం విద్యార్థుల సంఖ్య = 13000

ఒక పట్టణంలోని వివిధ కోర్సులను చదువుతున్న విద్యార్థుల శాతం :



What is the total number of students in B.Ed., Pharmacy, MBA and MBBS put together in all courses?

అన్ని కోర్సులలోను కలిపి B.Ed., Pharmacy, MBA మరియు MBBS చదువుతున్న

మొత్తం విద్యార్థుల సంఖ్య

Options :

8190

1. ✓

8290

2. ✗

3. ✘ 8180

4. ✘ 8240

Question Number : 94 Question Id : 5471143094 Display Question Number : Yes Is Question Mandatory : No Calculator : None Response Time : N.A Think Time : N.A Minimum Instruction Time : 0

Choose the group of letters which is different from others:

మిగిలిన వాటికి భిన్నంగా ఉన్న అక్షర సమూహాన్ని ఎంచుకోండి.

Options :

1. ✘ POCG

2. ✘ KLIZ

3. ✘ BUDX

4. ✔ FQMV

Question Number : 95 Question Id : 5471143095 Display Question Number : Yes Is Question Mandatory : No Calculator : None Response Time : N.A Think Time : N.A Minimum Instruction Time : 0

Find the value of

యొక్క విలువ ఎంత?

$$\sqrt{7\sqrt{7\sqrt{7\sqrt{7}\dots\infty}}}$$

Options :

1. ✘ 14

2. ✔ 7

3. ✘ 21

4. ✘ 28

Question Number : 96 Question Id : 5471143096 Display Question Number : Yes Is Question Mandatory : No Calculator : None Response Time : N.A Think Time : N.A Minimum Instruction Time : 0

*Joule* is related to *Energy* in the same way as *Pascal* is related to \_\_\_\_\_.

జౌలు శక్తికి సంబంధించినట్లుగా పాస్కల్ \_\_\_\_\_ కి సంబంధించును

Options :

Volume

1. ✘ ఘన పరిమాణం

Pressure

2. ✓ పీడనం

Density

3. ✘ సాంద్రత

Purity

4. ✘ స్వచ్ఛత

Question Number : 97 Question Id : 5471143097 Display Question Number : Yes Is Question Mandatory : No Calculator : None Response Time : N.A Think Time : N.A Minimum Instruction Time : 0

**Study the following information carefully to answer the given question:**

M, P, D, K, R, T and W are seven members of a family. There are three female members among them. There are two Lawyers, two Teachers, two Engineers and one Doctor among them. None of the female members is Engineer. D is one of the Lawyers, and is husband of P. W is one of the Teachers. D and R are children of M and K. T has the same profession as that of his uncle R. K is grandmother of T and W. R's father is also a Lawyer. K is not a doctor

క్రింది ఇచ్చిన సమాచారాన్ని జాగ్రత్తగా అధ్యయనంచేసి, ఇచ్చిన ప్రశ్నకు సమాధానమివ్వండి.

M,P,D,K,R,T మరియు W అను వ్యక్తులు ఒక కుటుంబంలోని ఏడుగురు సభ్యులు. వీరిలో ముగ్గురు మహిళా సభ్యులు కూడా ఉన్నారు. వీరిలో ఇద్దరు లాయర్లు, ఇద్దరు టీచర్లు, ఇద్దరు ఇంజనీర్లు, ఒక డాక్టర్ ఉన్నారు. మహిళా సభ్యులు ఎవరూ ఇంజనీర్లు కాదు. D లాయర్లలో ఒకరు మరియు P కి భర్త. W టీచర్లలో ఒకరు. D మరియు R లు M మరియు K ల పిల్లలు. T అను వ్యక్తి అతని అంకుల్ R చేసే వృత్తి చేస్తారు. K అను వ్యక్తి T మరియు W లకు అమ్మమ్మ/నానమ్మ. R తండ్రి కూడా న్యాయవాది. K డాక్టర్ కాదు.

Who is the doctor?

క్రింది వారిలో డాక్టర్ ఎవరు?

**Options :**

1. ✓ P

2. ✗ R

3. ✗ T



4. ✖ K

**Question Number : 98 Question Id : 5471143098 Display Question Number : Yes Is Question Mandatory : No Calculator : None Response Time : N.A Think Time : N.A Minimum Instruction Time : 0**

**Study the following information carefully to answer the given question:**

M, P, D, K, R, T and W are seven members of a family. There are three female members among them. There are two Lawyers, two Teachers, two Engineers and one Doctor among them. None of the female members is Engineer. D is one of the Lawyers, and is husband of P. W is one of the Teachers. D and R are children of M and K. T has the same profession as that of his uncle R. K is grandmother of T and W. R's father is also a Lawyer. K is not a doctor

క్రింది ఇచ్చిన సమాచారాన్ని జాగ్రత్తగా అధ్యయనంచేసి, ఇచ్చిన ప్రశ్నకు సమాధానమివ్వండి.

M,P,D,K,R,T మరియు W అను వ్యక్తులు ఒక కుటుంబంలోని ఏడుగురు సభ్యులు. వీరిలో ముగ్గురు మహిళా సభ్యులు కూడా ఉన్నారు. వీరిలో ఇద్దరు లాయర్లు, ఇద్దరు టీచర్లు, ఇద్దరు ఇంజనీర్లు, ఒక డాక్టర్ ఉన్నారు. మహిళా సభ్యులు ఎవరూ ఇంజనీర్లు కాదు. D లాయర్లలో ఒకరు మరియు P కి భర్త.

W టీచర్లలో ఒకరు. D మరియు R లు M మరియు K ల పిల్లలు. T అను వ్యక్తి అతని అంకుల్ R

చేసే వృత్తి చేస్తారు. K అను వ్యక్తి T మరియు W లకు అమ్మమ్మ/నానమ్మ. R తండ్రి కూడా

న్యాయవాది. K డాక్టర్ కాదు.

How is W related to R?

W అను వ్యక్తి R కి ఏమవుతారు?

**Options :**

1. ✖

Nephew

మేనల్లుడు

Niece

2. ✓

మేనకోడలు

Son

3. ✘

కొడుకు

Daughter

4. ✘

కూతురు

Question Number : 99 Question Id : 5471143099 Display Question Number : Yes Is Question Mandatory : No Calculator : None Response Time : N.A Think Time : N.A Minimum Instruction Time : 0



**Study the following information carefully to answer the given question:**

M, P, D, K, R, T and W are seven members of a family. There are three female members among them. There are two Lawyers, two Teachers, two Engineers and one Doctor among them. None of the female members is Engineer. D is one of the Lawyers, and is husband of P. W is one of the Teachers. D and R are children of M and K. T has the same profession as that of his uncle R. K is grandmother of T and W. R's father is also a Lawyer. K is not a doctor

క్రింది ఇచ్చిన సమాచారాన్ని జాగ్రత్తగా అధ్యయనంచేసి, ఇచ్చిన ప్రశ్నకు సమాధానమివ్వండి.

M,P,D,K,R,T మరియు W అను వ్యక్తులు ఒక కుటుంబంలోని ఏడుగురు సభ్యులు. వీరిలో ముగ్గురు మహిళా సభ్యులు కూడా ఉన్నారు. వీరిలో ఇద్దరు లాయర్లు, ఇద్దరు టీచర్లు, ఇద్దరు ఇంజనీర్లు, ఒక డాక్టర్ ఉన్నారు. మహిళా సభ్యులు ఎవరూ ఇంజనీర్లు కాదు. D లాయర్లలో ఒకరు మరియు P కి భర్త. W టీచర్లలో ఒకరు. D మరియు R లు M మరియు K ల పిల్లలు. T అను వ్యక్తి అతని అంకుల్ R చేసే వృత్తి చేస్తారు. K అను వ్యక్తి T మరియు W లకు అమ్మమ్మ/నానమ్మ. R తండ్రి కూడా న్యాయవాది. K డాక్టర్ కాదు.

How is P related to M?

P అను వ్యక్తి M కి ఏమవుతారు?

**Options :**

Grand daughter

మనవరాలు

1. ✘

Daughter

కుమార్తె

2. ✘

3.

Daughter-in-law

✓ కోడలు

Grand mother

అమ్మమ్మ / నానమ్మ

4. ✖

Question Number : 100 Question Id : 5471143100 Display Question Number : Yes Is Question Mandatory : No Calculator : None Response Time : N.A Think Time : N.A Minimum Instruction Time : 0

**Study the following information carefully to answer the given question:**

M, P, D, K, R, T and W are seven members of a family. There are three female members among them. There are two Lawyers, two Teachers, two Engineers and one Doctor among them. None of the female members is Engineer. D is one of the Lawyers, and is husband of P. W is one of the Teachers. D and R are children of M and K. T has the same profession as that of his uncle R. K is grandmother of T and W. R's father is also a Lawyer. K is not a doctor

క్రింది ఇచ్చిన సమాచారాన్ని జాగ్రత్తగా అధ్యయనంచేసి, ఇచ్చిన ప్రశ్నకు సమాధానమివ్వండి.

M,P,D,K,R,T మరియు W అను వ్యక్తులు ఒక కుటుంబంలోని ఏడుగురు సభ్యులు. వీరిలో ముగ్గురు మహిళా సభ్యులు కూడా ఉన్నారు. వీరిలో ఇద్దరు లాయర్లు, ఇద్దరు టీచర్లు, ఇద్దరు ఇంజనీర్లు, ఒక డాక్టర్ ఉన్నారు. మహిళా సభ్యులు ఎవరూ ఇంజనీర్లు కాదు. D లాయర్లలో ఒకరు మరియు P కి భర్త. W టీచర్లలో ఒకరు. D మరియు R లు M మరియు K ల పిల్లలు. T అను వ్యక్తి అతని అంకుల్ R చేసే వృత్తి చేస్తారు. K అను వ్యక్తి T మరియు W లకు అమ్మమ్మ/నానమ్మ. R తండ్రి కూడా న్యాయవాది. K డాక్టర్ కాదు.

Which of the following pairs of persons are engineers?

క్రింది వ్యక్తుల జంటలలో ఇంజనీర్లు ఎవరు?

**Options :**

MP

1. ✘

RT

2. ✔

RW

3. ✘

4. ✖ KT